







Znaczenie soli



Edukacja matematyczna

Zadanie I

Wpisz godziny, w których wykonujesz poszczególne czynności w ciągu dnia. Narysuj wskazówki tak, aby zegary pokazywały zapisane godziny.



Wstaję o ... Lekcje zaczynam o Kończę lekcje o... Jem obiad o... Jem kolację o ... Idę spać o ...

a) Ile godzin spędzasz w szkole?

b) Ile czasu upływa między obiadem a kolacją?

c) Ile godzin mija od twojej pobudki do pójścia spać?

d) O co możesz jeszcze zapytać?

Zadanie 2

Jedna godzina to 60 minut. Napisz obok, ile minut mają:



a) 3 godziny, to min.

b) 5 godzin, to min.

c) 4 godziny i 15 minut, to

Zadanie 3



Gabrysia położyła się spać o godz. 20.00, a wstała o godz. 7.00. Ile godzin spała Gabrysia? (godziny zaznacz na zegarach).

[illegible]



Zadanie 4

Tata spał połowę doby. Mama spała o dwie godziny dłużej niż tata. Ile godzin spała mama?

[illegible][illegible]